




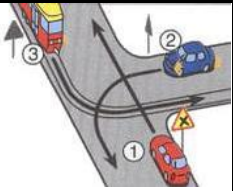
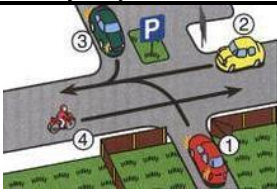
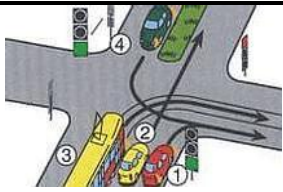
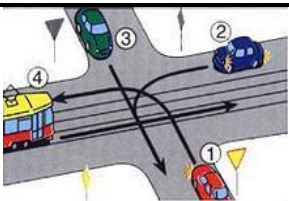
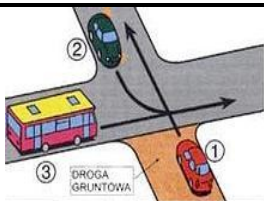


„Z PRZEPISAMI ZA PAN BRAT”

(SZKOŁA PODSTAWOWA)

<p>1. Szczególną ostrożność należy zachować podczas:</p> <p>A. omijania pieszego, B. wymijania kolumny pieszych, C. wyprzedzania.</p>	<p>2. Włączanie się do ruchu następuje:</p> <p>A. przy wjeżdżaniu na drogę polną z drogi twardej, B. przy wjeżdżaniu z drogi polnej na drogę twardą, C. przy wjeżdżaniu z jezdni na pobocze</p>
<p>3. Do wyposażenia obowiązkowego roweru należy między innymi:</p> <p>A. dzwonek lub inny sygnał ostrzegawczy o przeraźliwym dźwięku, B. z tyłu - światło pozycyjne barwy czerwonej, które nie może być migające, C. z przodu - światło pozycyjne barwy białej.</p>	<p>4. Holowanie roweru przez kierującego innym rowerem:</p> <p>A. jest dopuszczalne, jeżeli holowany rower jest niesprawny technicznie, B. jest dopuszczalne pod warunkiem, że kierujący rowerem holującym ma ukończone 13 lat, C. jest niedopuszczalne.</p>
<p>5. Dziecko w wieku do 15 lat poruszające się po drodze jest obowiązane:</p> <p>A. poza obszarem zabudowanym zawsze używać elementów odblaskowych w sposób widoczny dla innych uczestników ruchu, B. w obszarze zabudowanym po zmierzchu używać elementów odblaskowych w sposób widoczny dla innych uczestników ruchu, C. poza obszarem zabudowanym po zmierzchu używać elementów odblaskowych w sposób widoczny dla innych uczestników ruchu.</p>	<p>6. Piesi w wieku do lat 10 mogą iść w kolumnie obok siebie:</p> <p>A. tylko dwójkami pod nadzorem co najmniej dwóch osób, które ukończyły 17 lat, B. tylko dwójkami pod nadzorem jednej osoby, która ukończyła 17 lat, C. tylko dwójkami pod nadzorem co najmniej jednej osoby pełnoletniej,</p>
<p>7. Pieszy korzystając z drogi dla rowerów:</p> <p>A. nie jest obowiązany ustąpić miejsca rowerowi, B. jest obowiązany ustąpić miejsca rowerowi, jeżeli jest osobą niepełnosprawną, C. jest obowiązany ustąpić miejsca rowerowi</p>	<p>8. Kolumna pieszych wieku do lat 10 :</p> <p>A. może poruszać się tylko prawą stroną jezdni, B. może poruszać się tylko lewą stroną jezdni, C. nie może poruszać się po jezdni.</p>
<p>9. Przechodzenie przez jezdnię poza przejściem dla pieszych jest dozwolone, gdy odległość od przejścia przekracza:</p> <p>A. 50 m B. 100 m C. 150 m</p>	<p>10. Zabrania się wyprzedzania pojazdu uprzywilejowanego:</p> <p>A. tylko w obszarze zabudowanym, B. poza obszarem zabudowanym, C. w obszarze zabudowanym i poza obszarem zabudowanym.</p>
<p>11. Przedstawiony znak:</p> <p>A. oznacza drogę przeznaczoną dla kierujących rowerami jednośladowymi, B. oznacza drogę przeznaczoną dla kierujących rowerami wielośladowymi, C. oznacza drogę przeznaczoną dla kierujących rowerami jednośladowymi i wielośladowymi</p> <div style="text-align: center;">  </div>	<p>12. Rowerzysta widząc ten znak:</p> <p>A. może wjechać na skrzyżowanie bez zatrzymania, jeżeli nie widzi innych pojazdów, B. powinien zatrzymać pojazd przed znakiem, jeżeli na drodze nie ma wyznaczonego w tym celu miejsca. C. powinien zawsze zatrzymać pojazd</p> <div style="text-align: center;">  </div>

<p>13. Znak ten zabrania rowerzyście:</p> <p>A. jazdy rowerem tylko po jezdni, B. jazdy rowerem tylko po poboczu, C. jazdy rowerem po jezdni i poboczu.</p> 	<p>14. Rowerzysta widząc ten znak:</p> <p>A. powinien być przygotowany do wjechania na sąsiedni lewy pas ruchu, B. powinien być przygotowany do skręcenia na skrzyżowaniu w lewo, C. może jechać nadal tym pasem ruchu.</p> 
<p>15. Znak ten :</p> <p>A. obowiązuje w miejscu, gdzie występuje możliwość zmiany kierunku jazdy, B. dotyczy tylko najbliższego skrzyżowania, C. dotyczy tylko miejsca, gdzie występuje możliwość zmiany kierunku jazdy.</p> 	<p>16. Na tym skrzyżowaniu kierujący pojazdem:</p> <p>A. 1 ma pierwszeństwo przed pojazdem 2, B. 2 ma pierwszeństwo przed pojazdem 3, C. 3 ma pierwszeństwo przed pojazdem 1</p> 
<p>17. Na tym skrzyżowaniu kierujący pojazdem:</p> <p>A. 3 ma pierwszeństwo przed pojazdem 2, B. 4 ma pierwszeństwo przed pojazdem 1, C. 1 ma pierwszeństwo przed pojazdem 3,</p> 	<p>18. Na tym skrzyżowaniu kierujący pojazdem:</p> <p>A. 4 ma pierwszeństwo przed pojazdem 1, B. 3 ma pierwszeństwo przed pojazdem 2, C. 2 ma pierwszeństwo przed pojazdem 3,</p> 
<p>19. Na tym skrzyżowaniu kierujący pojazdem:</p> <p>A. 4 ma pierwszeństwo przed pojazdem 1, B. 3 ma pierwszeństwo przed pojazdem 2, C. 2 ma pierwszeństwo przed pojazdem 4,</p> 	<p>20. Na tym skrzyżowaniu kierujący pojazdem:</p> <p>A. 1 ma pierwszeństwo przed pojazdem 2, B. 3 ma pierwszeństwo przed pojazdem 1, C. 2 ma pierwszeństwo przed pojazdem 3,</p> 
<p>21. Podaj numery telefonów : Pogotowie Ratunkowe, Straż Pożarna, Policja</p> <p>A. 998, 999, 778 B. 997, 996, 112 C. 999, 998, 997</p>	<p>22. Czy twoim zdaniem przy opatrywaniu ran należy używać jednorazowych rękawiczek</p> <p>A. nie ma to większego znaczenia B. zależy to od rodzaju rany C. zawsze</p>
<p>23. Do opatrywania słabo krwawiących ran nadają się:</p> <p>A. woda , środki dezynfekujące B. maści, zasyпки lub inne domowe środki np. mąka i biało C. sterylne plastry z opatrunkiem</p>	<p>24. W trakcie zabawy kolega wyrzucił się. W rękę wbił mu się kawałek szkła. Jakiej pomocy udzielisz?</p> <p>A. jak najszybciej usunę szkło z rany, bo jest ono źródłem zarazków i założę opatrunek. Zaprowadzę kolegę do lekarza. B. Delikatnie przykryję ranę gazą jałową. Unieruchomię szkło tkwiące w ranie rolkami bandaży. Założę opatrunek. Zaprowadzę kolegę do lekarza</p>

25. Kolega spadł z roweru. Zranił się w kolano, które mocno krwawi. Nie masz ze sobą apteczki. Co zrobisz?

A. Użyję swojej chusteczki do nosa do wykonania opatrunku

B. Aby wykonać opatrunek użyję najczystszej części garderoby, którą ma na sobie poszkodowany